

- 1 Aktiviti perniagaan dapat dibahagikan kepada aktiviti berasaskan barang dan perkhidmatan. Antara yang berikut, yang manakah merupakan aktiviti berasaskan perkhidmatan?
- A Pembuatan
B Penternakan
C Pemasangan
D Pengangkutan

- 2 Kerajaan memberi subsidi minyak agar harga minyak di pasaran tidak meningkat secara berterusan. Apakah kaedah perniagaan yang digunakan?
- A Secara percuma
B Jualan pada harga kos
C Jualan pada harga di atas kos
D Jualan pada harga di bawah kos

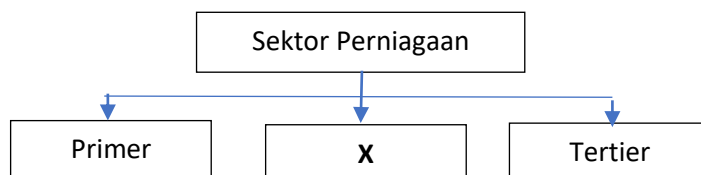
- 3 Antara yang berikut, yang manakah menerangkan kelebihan bentuk perniagaan usaha sama?
- I Cara pengurusan yang sama
II Mudah mendapat bahan mentah
III Membantu memperluaskan pasaran
IV Visi dan misi antara duaa pihak adalah sama
- A I dan II
B I dan IV
C II dan III
D III dan IV

- 4 Maklumat di bawah berkaitan skala perniagaan.

Aktiviti perniagaan yang melibatkan sebuah negara dengan negara lain. Barang yang dihasilkan dieksport ke luar negara.

Skala perniagaan tersebut ialah

- A skala zon
B skala negeri
C skala tempatan
D skala kebangsaan
- 5 Rajah di bawah ini berkaitan dengan sektor perniagaan.



Manakah yang mewakili X?

- I Pertanian
II Pembinaan
III Kejuruteraan
IV Perkhidmatan awam
- A I dan II
B II dan III
C II dan IV
D III dan IV

- 6 Sebab undang-undang yang berkaitan dengan perlindungan pengguna digubal ialah
- A mengawal perjalanan aktiviti perniagaan
B menggalakan rakyat menceburi bidang perniagaan
C menjadi sumber pembiayaan untuk menjalankan aktiviti perniagaan
D melindungi pengguna supaya tidak ditindas oleh peniaga yang tidak beretika

- 7 Maklumat di bawah ini berkaitan dengan Langkah yang diambil oleh kerajaan untuk mengatasi sejenis pengangguran.

B Ringkas

D Boleh dicapai

13 Maklumat yang berikut berkaitan dengan beberapa persoalan semasa membuat perancangan strategik.

- Apakah perniagaan yang sedang dijalankan?
- Siapakah pelanggan perniagaan tersebut?
- Apakah jenis perniagaan yang ingin dijalankan pada masa akan datang?

Konsep perancangan strategik manakah yang berkaitan dengan persoalan berkenaan?

A Visi

C Objektif

B Misi

D Strategi

14 Maklumat yang berikut berkaitan dengan pembangunan produk baharu.

Pada peringkat ini, satu kajian akan dilakukan untuk menilai ssesuatu idea produk baharu sebelum prototaip dibentuk.

Apakah peringkat tersebut?

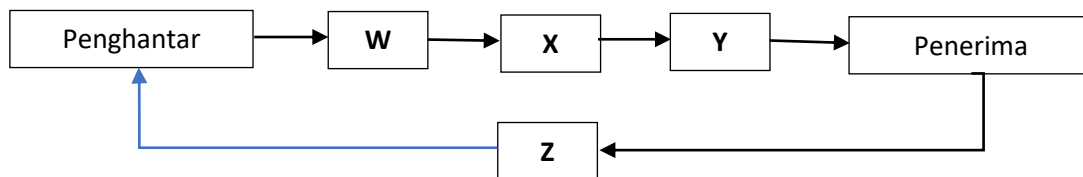
A Penjanaan idea

B Penyaringan idea

C Pembangunan strategi pemasaran

D Pembangunan produk dan pengujian konsep

15 Rajah di bawah menunjukkan proses komunikasi.



Apakah unsur W, X, Y dan Z?

	W	X	Y	Z
A	Maklum balas	Dekod	Saluran	Enkod
B	Dekod	Saluran	Enkod	Maklum balas
C	Saluran	Enkod	Maklum balas	Dekod
D	Enkod	Saluran	Dekod	Maklum balas

16 Maklumat yang berikut merujuk kepada salah satu bahagian fungsian dalam organisasi.

- Menjalankan urusan dalam organisasi
- Menguruskan rekod
- Mengendalikan mmesyuarat

Apakah bahagian fungsian berkenaan?

A Kewangan

C Sumber manusia

B Pentadbiran

D Teknologi maklumat dan komunikasi (ICT)

17 Susun tatacara pembelian bahan mentah dengan betul.

I Mencari pembekal yang sesuai

II Membuat pesanan pembelian

III Menilai pembekal-pembekal berdasarkan sebut harga yang dikemukakan

IV Menerima sebut harga daripada syarikat-syarikat pembekal

- 28 Jenis perniagaan manakah yang sesuai untuk memohon penerbitan syer sebagai sumber dana?
- A Gerai Nasi Lemak Eunice
 - B Kedai Runcit Ella
 - C Perniagaan Perkongsian Elisha dan Ezandra
 - D **Syarikat Everready Berhad**

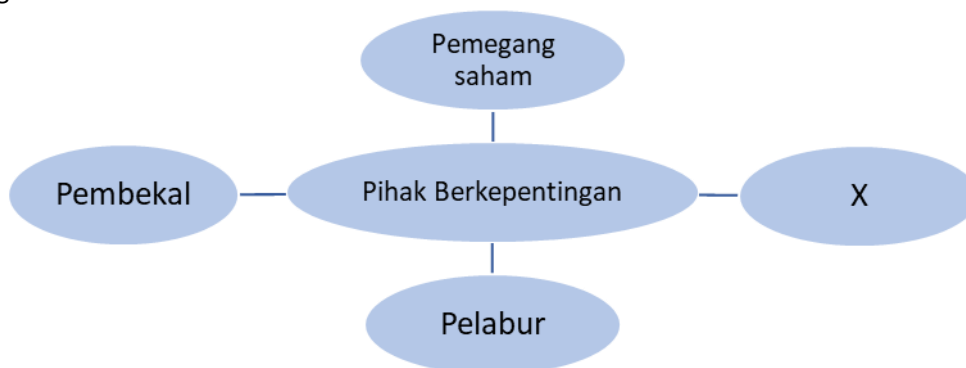
- 29 Gambar berikut menunjukkan Kedai Dobi Cuci Elok.



shutterstock.com • 54673240

Apakah jenis pembiayaan yang paling sesuai untuk mendapatkan mesin basuh perniagaan ini?

- A **Pajakan**
 - B Gadaian
 - C Sewa beli
 - D Pemfaktoran
- 30 Apakah fungsi nisbah semasa?
- A Keupayaan perniagaan membeli aset secara tunai
 - B Keupayaan perniagaan membeli aset secara kredit
 - C **Kemampuan perniagaan menjelaskan liabiliti jangka pendek**
 - D Kemampuan perniagaan menjana keuntungan daripada aset sedia ada
- 31 Rajah yang berikut berkaitan dengan pihak berkepentingan kepada penyata kewangan sesebuah perniagaan.



Siapakah X?

- I Pihak pengurusan
- II Institusi kewangan
- III Pelanggan
- IV Pengimport
- A **I dan II**
- B I dan III
- C II dan IV
- D III dan IV

Apakah kelebihan menjadi usahawan kepada masyarakat?

- A **Membuka peluang pekerjaan**
- B Sumber pendapatan diri dan keluarga
- C Memenuhi keperluan dan kehendak masyarakat
- D Dapat memperkenalkan produk tempatan ke luar negara

37 Antara berikut, manakah merupakan kategori stok bergerak pantas?

- A **Beras**
- B Kereta
- C Perabot
- D Penyapu

38 Apakah tujuan usahawan membuat permohonan carian nama syarikat?

- A Untuk mencari nama syarikat yang telah muflis
- B Untuk mencari nama syarikat yang digemari pengguna
- C Untuk mengelakkan daripada menggunakan akta syarikat yang sama
- D **Untuk mengelakkan daripada menggunakan nama syarikat yang sama**

39 Apakah kepentingan Rancangan Perniagaan kepada peniaga?

- A Mencari pekerjaan yang baharu
- B Panduan memberikan pinjaman
- C **Garis panduan untuk menguruskan perniagaan**
- D Untuk membuat pelaburan di dalam perniagaan

40 Antara yang berikut, yang manakah merupakan komponen rancangan operasi?

- I Carta aliran proses
 - II Carta organisasi
 - III Spesifikasi kerja
 - IV Susun atur ruang operasi
- A I dan II
 - B **I dan IV**
 - C II dan III
 - D III dan IV